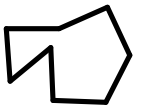
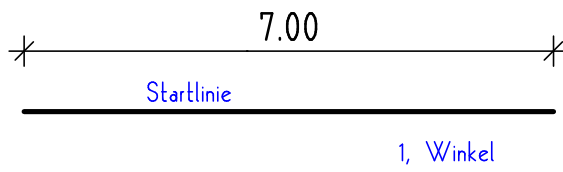


# WINKEL MESSEN

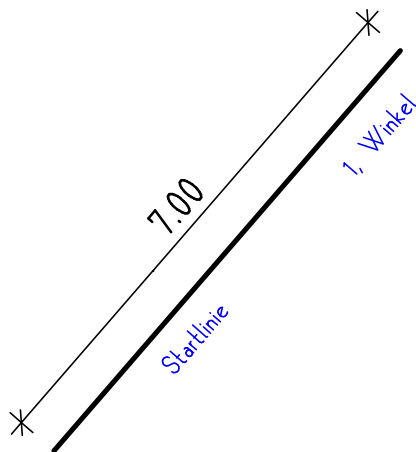
Zeichnen Sie einen Polygonzug mit folgenden Innenwinkeln:  
195°; 50°; 142,3°; 143,3° und 80°.  
Beschriften Sie die Winkel.  
Die 6 Linien sollten immer 7cm lang sein.



So könnte ein fertiger Polygonzug verkleinert aussehen.



Zeichnen Sie einen Polygonzug mit folgenden Innenwinkeln:  
94°; 252,4°; 61,5°; 117,1°; 115°; 255° und 45°.  
Beschriften Sie die Winkel.  
Die 8 Linien sollten immer 7cm lang sein.



Name: \_\_\_\_\_ Datum: \_\_\_\_\_

Klasse: \_\_\_\_\_ Blatt Nr.: \_\_\_\_\_