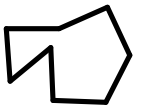
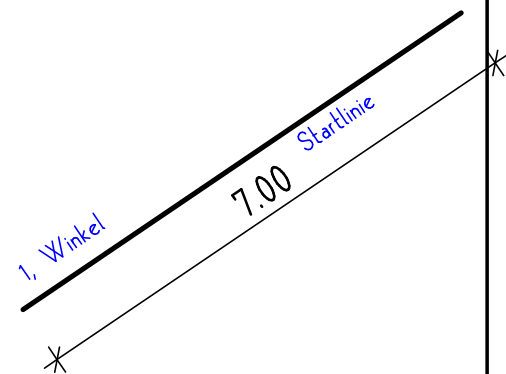
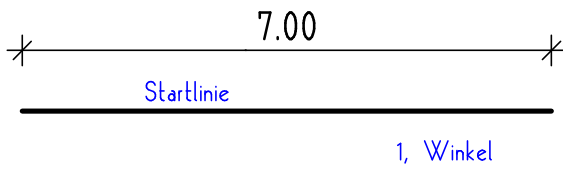


WINKEL MESSEN

Zeichnen Sie einen Polygonzug mit folgenden Innenwinkeln:
170°; 80°; 80,2°; 231,7° und 59,3°.
Beschriften Sie die Winkel.
Die 6 Linien sollten immer 7cm lang sein.



So könnte ein fertiger Polygonzug verkleinert aussehen.



Zeichnen Sie einen Polygonzug mit folgenden Innenwinkeln:
125°; 255°; 50°; 137°; 80°; 257,9° und 84,6°.
Beschriften Sie die Winkel.
Die 8 Linien sollten immer 7cm lang sein.

Name: _____ Datum: _____

Klasse: _____ Blatt Nr.: _____