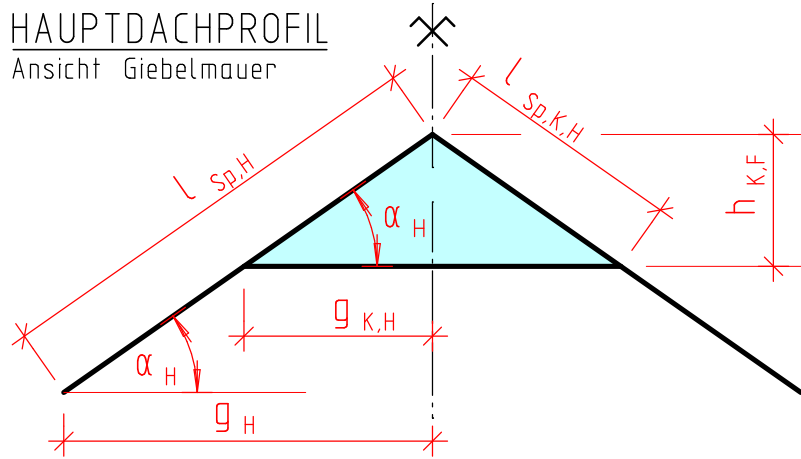


# Das Krüppelwalmdach und seine Profile

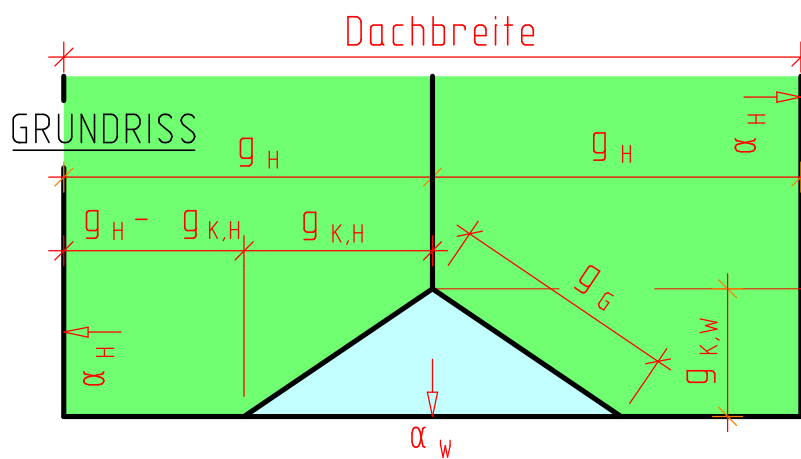
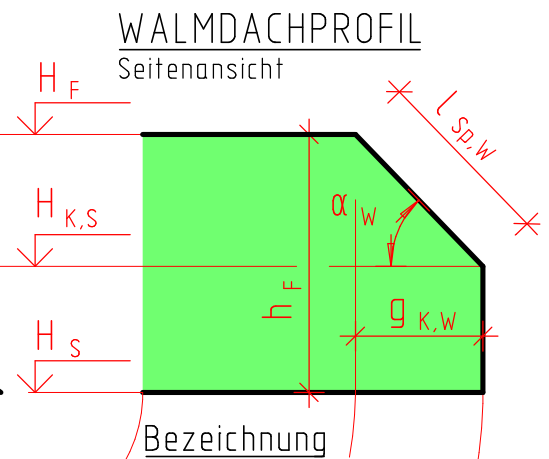
## HAUPTDACHPROFIL

Ansicht Giebelmauer



## WALMDACHPROFIL

Seitenansicht



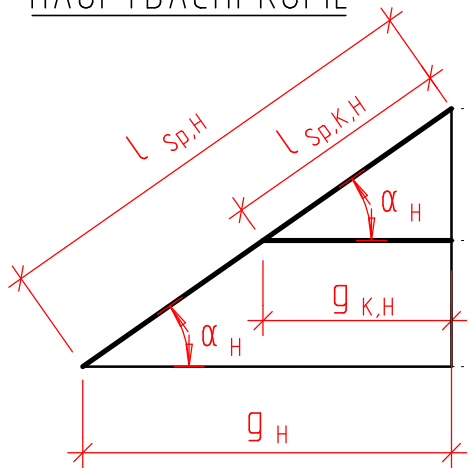
### Bezeichnung

- g . . . Grundmaß
- h . . . lotrechtes Maß
- H . . . Höhe bezogen auf ±0,00
- L . . . Länge
- Index
- H . . . Hauptdach
- W . . . Walmdach
- K . . . Krüppelwalm
- F . . . First
- S . . . Saum
- G . . . Grat
- Sp . . . Sparren

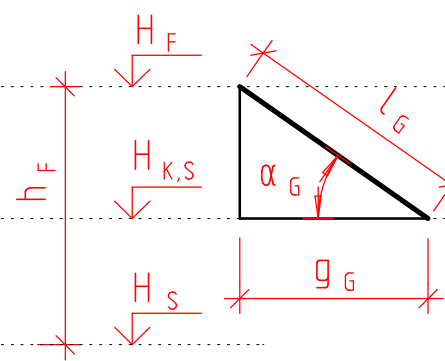
Zeichnen Sie die 3 Profile des Krüppelwalmdaches und den Gratgrund. Beschriften Sie die einzelnen Elemente mit Maßlinien und den richtigen Größen, Abkürzungen.

In welcher Beziehung stehen die einzelnen Profile zueinander?

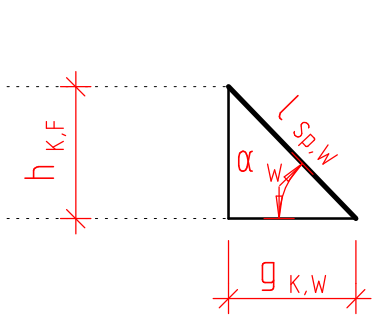
## HAUPTDACHPROFIL



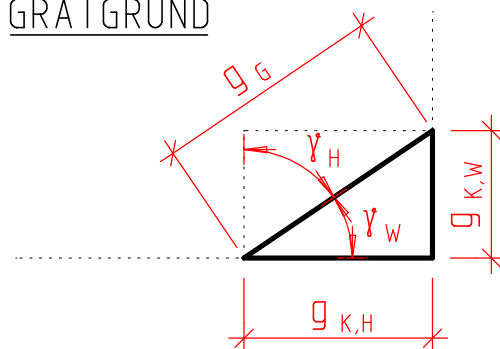
## GRATPROFIL



## WALMDACHPROFIL



## GRATGRUND



$h_{K,F}$  ist in allen 3 Profilen gleich.  
 $g_{K,H}$  und  $g_{K,W}$  bilden zusammen das Gratgrundmaß.  
 Die Gratgrundwinkel  $\gamma$  ergeben sich aus  $g_{K,H}$  und  $g_{K,W}$ .