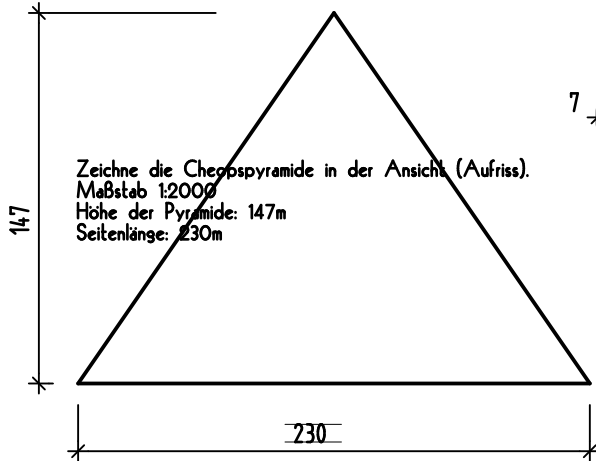


MASSTÄBLICHE BAUTEILE

CHEOPSPYRAMIDE

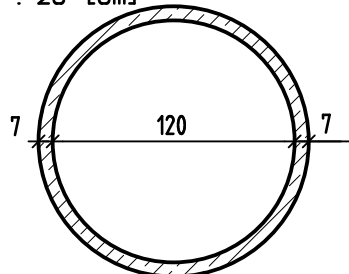
M 1 : 2000 [m]



Zeichne die Cheopspyramide in der Ansicht (Aufriss).
Maßstab 1:2000
Höhe der Pyramide: 147m
Seitenlänge: 230m

SCHACHTRING

M 1 : 25 [cm]




Zeichne den Grundriss eines Schachtringes (Kanalschacht).
Er hat einen Innendurchmesser von 120cm und ist 70mm stark.
Maßstab 1:25

NORMALFORMATZIEGEL

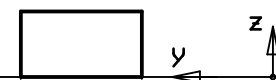
M 1 : 5

Zeichne einen NF als Draufsicht und in seinen Ansichten
Maßstab 1:5

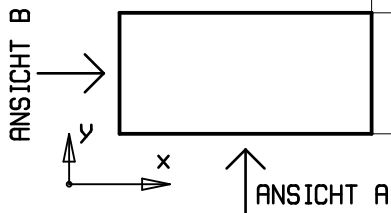
ANSICHT A



ANSICHT B



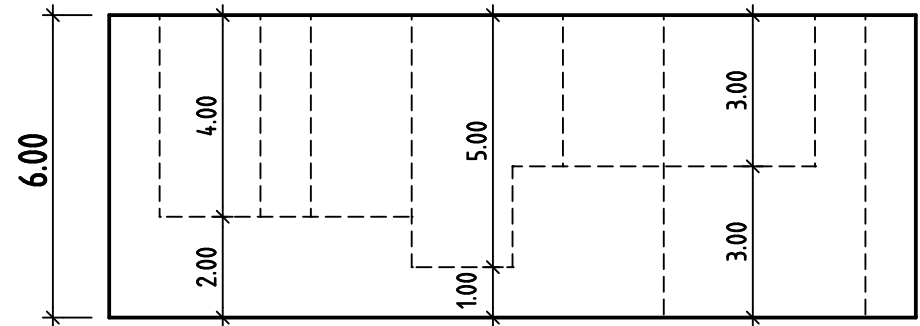
DRAUFSICHT



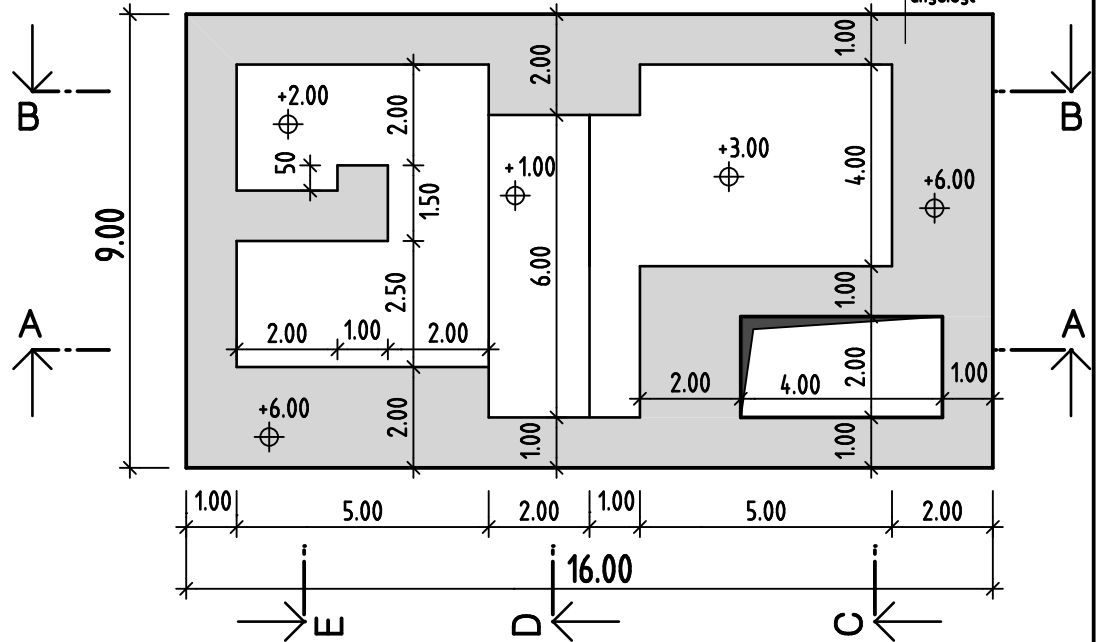
SCHNITTDARSTELLUNGEN

Unten ist ein Körper durch eine Ansicht und eine Draufsicht dargestellt.
Zeichne mindestens 4 der eingezeichneten Schnitte dieses Körpers auf und schraffiere die geschnittenen Bereiche.

ANSICHT



DRAUFSICHT



Name: _____ Datum: _____
Klasse: _____ Blatt Nr.: _____