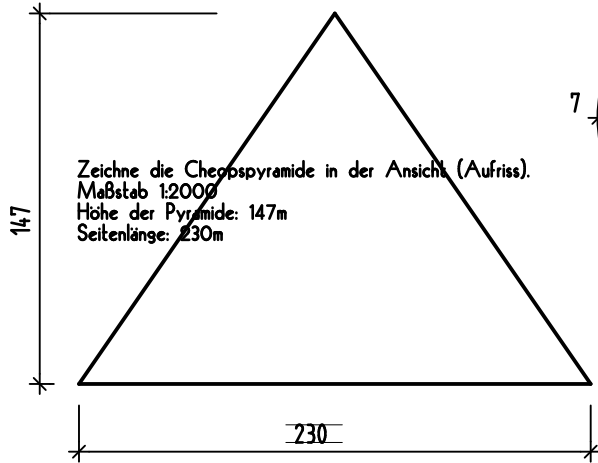


MASSTÄBLICHE BAUTEILE

CHEOPSPYRAMIDE

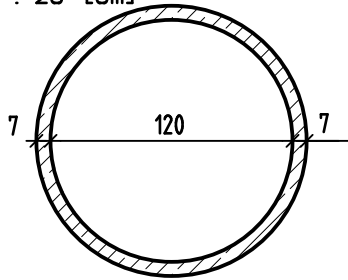
M 1 : 2000 [m]



Zeichne die Cheopspyramide in der Ansicht (Aufriss).
 Maßstab 1:2000
 Höhe der Pyramide: 147m
 Seitenlänge: 230m

SCHACHTRING

M 1 : 25 [cm]



Zeichne den Grundriss eines Schachtringes (Kanalschacht).
 Er hat einen Innendurchmesser von 120cm und ist 70mm stark.
 Maßstab 1:25

NORMALFORMATZIEGEL

M 1 : 5

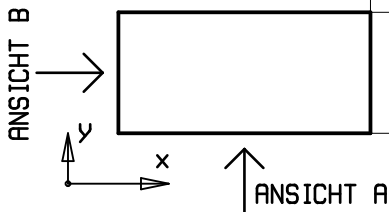
ANSICHT A



ANSICHT B

Zeichne einen NF als Draufsicht und in seinen Ansichten.
 Maßstab 1:5

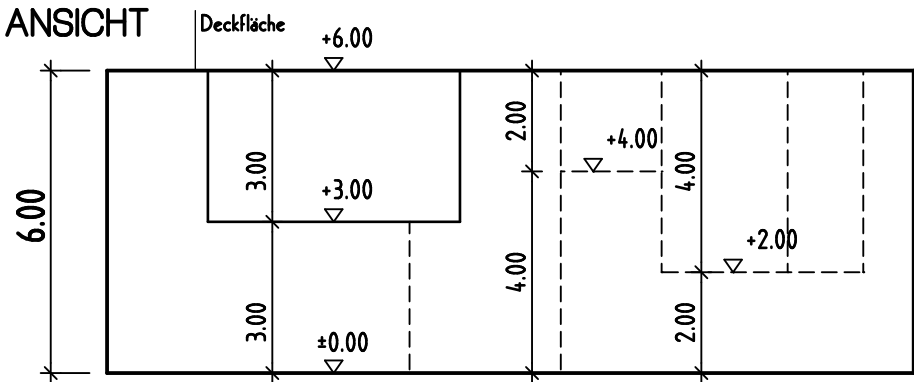
DRAUFSICHT



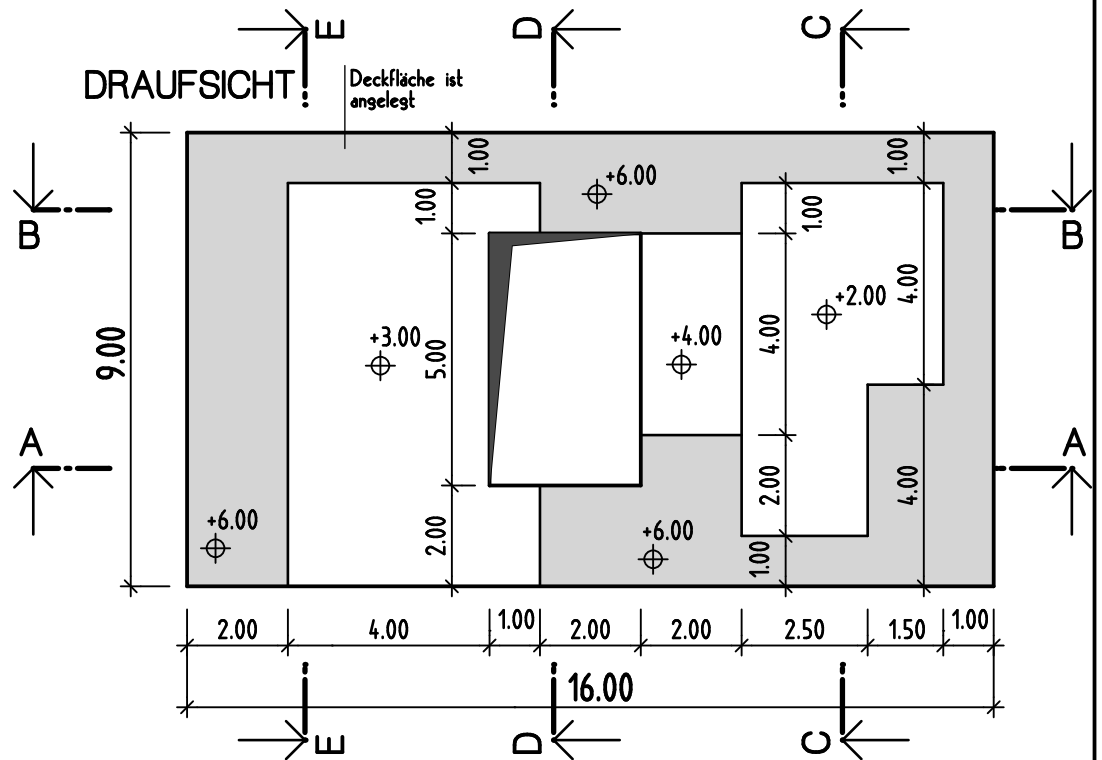
SCHNITTDARSTELLUNGEN

Unten ist ein Körper durch eine Ansicht und eine Draufsicht dargestellt.
 Zeichne mindestens 4 der eingezeichneten Schnitte dieses Körpers auf und schraffiere die geschnittenen Bereiche.

ANSICHT



DRAUFSICHT



Name: _____ Datum: _____
 Klasse: _____ Blatt Nr.: _____